

Examenopgaven

N-examen 1 november 2017, 15.15 uur

Meeting District
Nieuwegein

STICHTING RADIO EXAMENS

Secretariaat:

Von Weberlaan 38

3055 HZ Rotterdam

Telefoon: 010 4184329

Inschrijving KvK: 32140649

Opgave
nummer

De netheid van het werk kan invloed hebben op de beoordeling

Examen N-Examen

Voorschriften, procedures en techniek

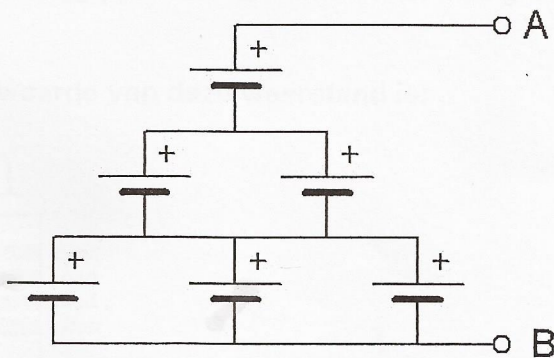
1. Door een weerstand loopt een stroom van I ampère.

De spanning over deze weerstand is evenredig met:

- a. I
- b. I^2
- c. \sqrt{I}

2. Zes 1,5 V cellen worden op onderstaande manier aangesloten.

De spanning tussen A en B is:



- a. 9 V
- b. 6 V
- c. 4,5 V

3. Bij een FM-zender wordt door het moduleren het aan de antenne afgegeven vermogen:

- a. groter
- b. kleiner
- c. niet veranderd

Opgave
nummer

4. Een zender is aangesloten op een kunstantenne (dummy load). Het uitgangsvermogen van de zender wordt een factor 4 vergroot.

De uitgangsstroom wordt dan:

- a. 2 maal zo groot
- b. 4 maal zo groot
- c. 16 maal zo groot

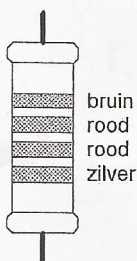
5. De letter "R" wordt in de elektronica gebruikt voor een:

- a. weerstand
- b. condensator
- c. spoel

6. Om de maximaal toelaatbare vermogensdissipatie van een weerstand te verhogen, kan men het beste:

- a. de weerstandswaarde zo klein mogelijk maken
- b. het oppervlak van de weerstand zo klein mogelijk maken
- c. het oppervlak van de weerstand zo groot mogelijk maken

7. De waarde van deze weerstand is:



- a. 220Ω , tolerantie 10%
- b. $1,2 \text{ k}\Omega$, tolerantie 10%
- c. $1,2 \text{ k}\Omega$, tolerantie 5%

8. Als van een condensator van 200 pF de mogelijke waarde ligt tussen 190 pF en 210 pF dan is de tolerantie:

- a. 10%
- b. 5%
- c. 20%

Opgave
nummer

9. Een spoel is aangesloten op een sinusvormige wisselspanning.

Juist is:

- a. bij verlaging van de spanning neemt de stroom door de spoel toe
- b. bij verlaging van de frequentie neemt de stroom door de spoel toe
- c. bij verlaging van de frequentie neemt de stroom door de spoel af

...

10. Eén van deze toepassingen van een transformator is niet juist:

- a. versterken van vermogen
- b. wijzigen van wisselspanning
- c. aanpassen van antenne aan kabel

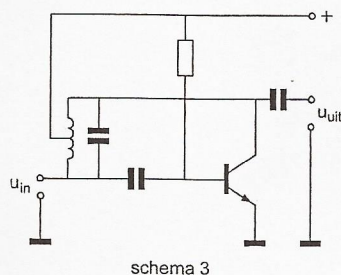
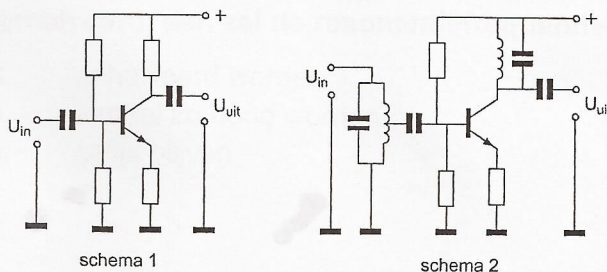
...

11. Een kenmerkende eigenschap van een zenerdiode is de:

- a. hoge weerstand in de doorlaatrichting
- b. sterk toenemende stroom boven een bekende spanning in de sperrichting
- c. sterke lichtgevoeligheid in de sperrichting

...

12. Als selectieve hoogfrequentversterker kan worden gebruikt:



- a. schema 2
- b. schema 3
- c. schema 1

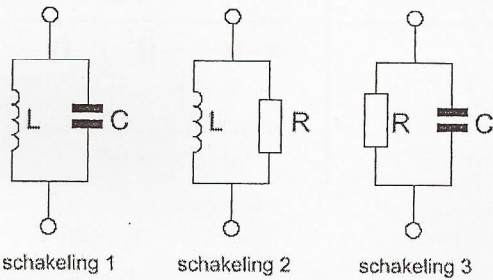
...

Opgave
nummer

13. De weerstand van een seriekring in resonantie is:

- a. hoog
- b. laag
- c. negatief

14. Welke schakeling gedraagt zich als een resonantiekring?



- a. schakeling 1
- b. schakeling 3
- c. schakeling 2

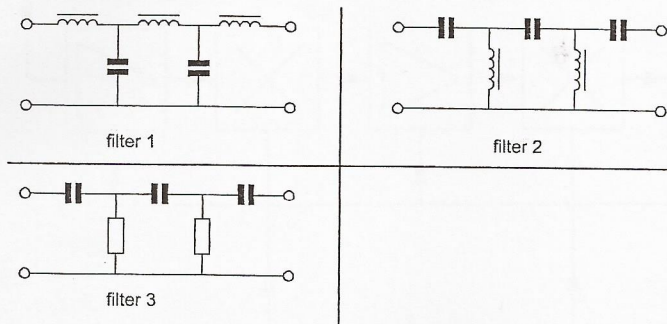
15. Indien bij een parallelkring de zelfinductie wordt verdubbeld en de capaciteit wordt gehalveerd, dan zal de resonantiefrequentie:

- a. gehalveerd worden
- b. 2 maal zo hoog worden
- c. gelijk blijven

Opgave
nummer

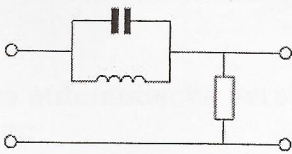
16. In een laagfrequentversterker wenst men signalen met frequenties boven het hoorbare gebied te onderdrukken.

Welk filter wordt toegepast?



- a. filter 3
b. filter 1
c. filter 2

17. Dit is het schema van een:



- a. laagdoorlaatfilter
b. banddoorlaatfilter
c. bandsperfilter

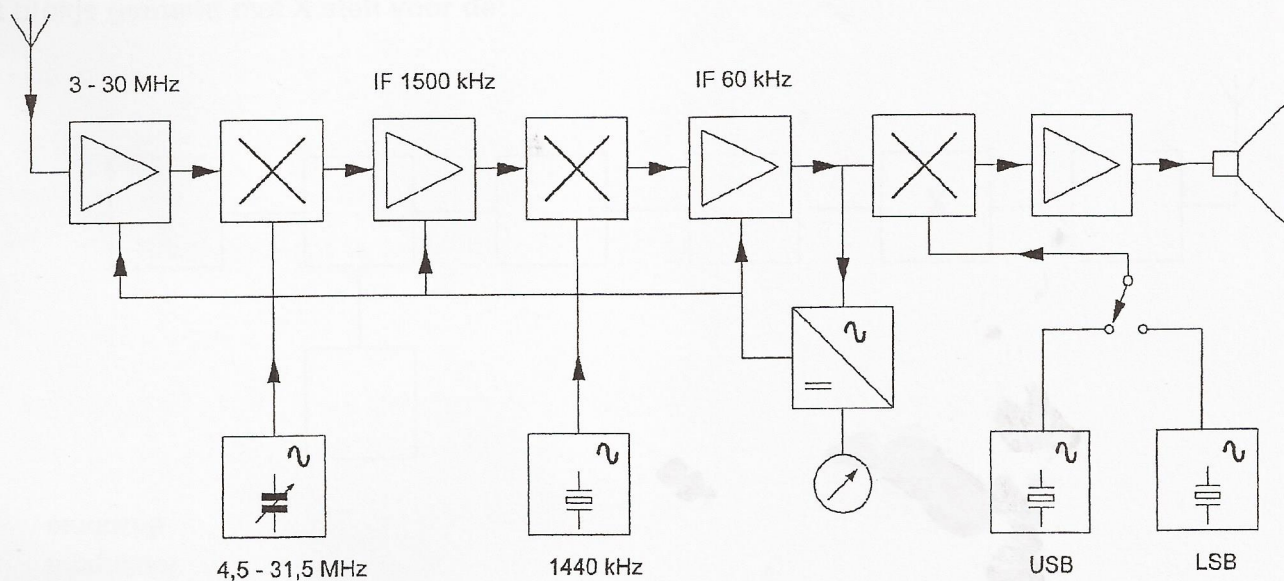
18. Het frequentiebereik van een ontvanger loopt van 144 tot 146 MHz.
De middenfrequentie is 10 MHz.

Het frequentiebereik van de oscillator kan zijn:

- a. 164 - 166 MHz
b. 144 - 146 MHz
c. 154 - 156 MHz

Opgave
nummer

19. Dit is het blokschema van een:



- EZB-ontvanger
- EZB-zend/ontvanger
- FM-zend/ontvanger

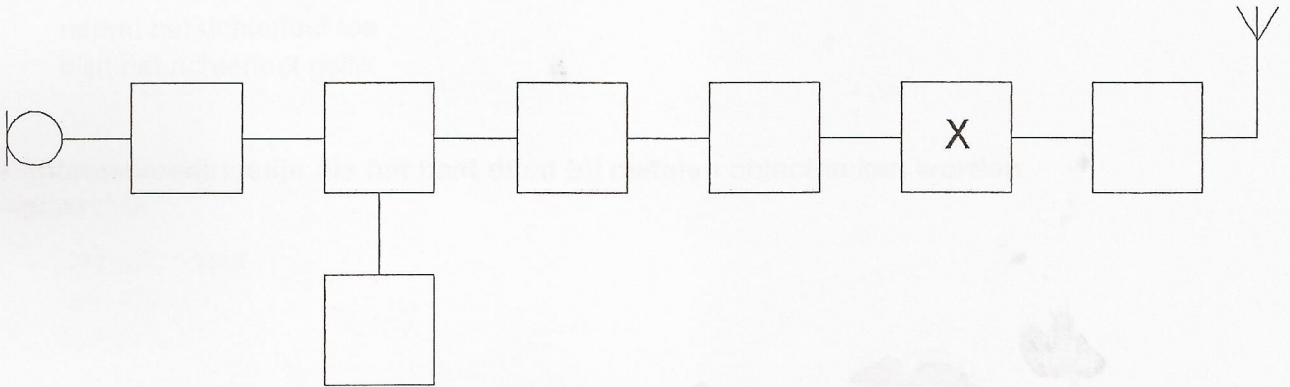
20. De automatische versterkingsregeling (AVR) in een hf-ontvanger heeft als functie om:

- frequentie-afwijkingen te corrigeren
- de versterking aan te passen aan de signaalsterkte
- de ontvangerversterking constant te houden

Opgave
nummer

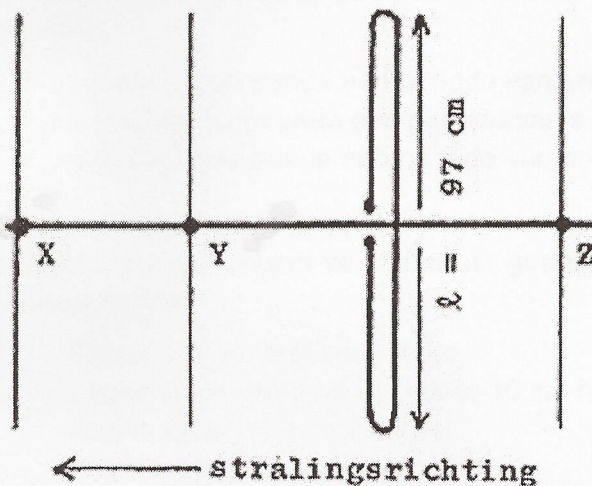
21. Dit is het blokschema van een 2-meter FM-zender.

Het blokje gemerkt met X stelt voor de:



- a. stuurtrap
- b. modulator
- c. oscillator

22. Hoe lang moeten de parasitaire elementen X, Y en Z zijn?



- a. X = 91 cm; Y = 92 cm; Z = 102 cm
- b. X = 92 cm; Y = 102 cm; Z = 105 cm
- c. X = 105 cm; Y = 102 cm; Z = 92 cm

Opgave
nummer

23. Een yagi-antenne heeft één director.

Door het bijplaatsen van directoren:

- a. neemt het richteffect af
- b. neemt het richteffect toe
- c. blijft het richteffect gelijk

...

24. De antennevoedingslijn die het best dicht bij metalen objecten kan worden toegepast is:

- a. coaxiale kabel
- b. twin-lead
- c. open lijn

...

25. Radiogolven met een frequentie van 10 MHz kunnen worden teruggekaatst in de:

- a. troposfeer
- b. stratosfeer
- c. ionosfeer

...

26. De bruikbaarheid van de 28 MHz band voor intercontinentaal radioverkeer is het grootst:

- a. overdag, gedurende een periode van een maximum aantal zonnevlekken
- b. 's nachts, gedurende een periode van een minimum aantal zonnevlekken
- c. overdag, gedurende een periode van een minimum aantal zonnevlekken

...

27. Onder troposfeer wordt verstaan het gedeelte van de atmosfeer boven het aardoppervlak:

- a. tussen 120 en 500 km hoogte
- b. tussen zee-niveau en ongeveer 10 km hoogte
- c. tussen 80 en 120 km hoogte

...

28. De voortplanting van radiogolven over grote afstand in de 2-meter band is vooral afhankelijk van:

- a. de temperatuurverdeling in de onderste luchtlagen
- b. het aantal zonnevlekken
- c. de stand van de zon

...

Opgave
nummer

29. De belangrijkste component van een breedband-kunstantenne is een:

- a. luchtspoel
- b. niet-inductieve weerstand
- c. draadgewonden weerstand

30. De modulatievorm welke de minste storing door laagfrequentdetectie veroorzaakt is:

- a. frequentiemodulatie
- b. amplitudemodulatie
- c. enkelzijbandmodulatie

31. Een breedband-antenneversterker is aangesloten tussen een TV-antenne en een TV-ontvanger.

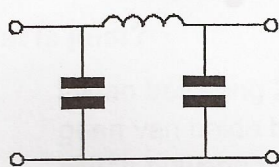
Bij het inschakelen van een hf-amateurzender worden alle TV-kanalen gestoord.

Deze storing is in het algemeen op te heffen door:

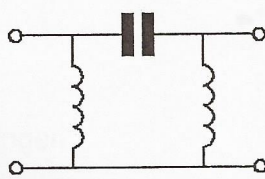
- a. een banddoorlaatfilter achter de versterker te plaatsen
- b. een hoogdoorlaatfilter voor de versterker te plaatsen
- c. een laagdoorlaatfilter voor de versterker te plaatsen

32. Er wordt storing ondervonden van de harmonischen van een amateurzender.

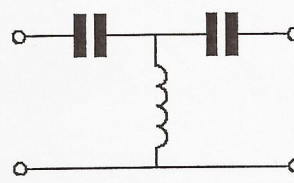
Om de storing op te heffen dient in de antennekabel bij de zender het volgende filter te worden opgenomen:



filter 1



filter 2



filter 3

- a. filter 2
- b. filter 1
- c. filter 3

Opgave
nummer

33. Tijdens werkzaamheden aan een voedingsapparaat pakt een collega-amateur een draad vast waarop netspanning staat. Hij kan de draad niet meer loslaten.

Uw eerste handeling moet zijn:

- a. de apparaat-schakelaar uitzetten
- b. de netsteker uittrekken
- c. het slachtoffer lostrekken

34. **Bewering 1:**

Een dubbelzijdigband AM-zender wordt gemoduleerd met een spraaksignaal. De klasse van uitzending is A3E.

Bewering 2:

In een zender wordt fasemodulatie toegepast voor het uitzenden van een datakanaal. De klasse van uitzending is G3E.

Wat is juist?

- a. alleen bewering 1
- b. alleen bewering 2
- c. bewering 1 en bewering 2

35. **Bewering 1:**

Een FM-zender wordt gemoduleerd met een spraaksignaal. De klasse van uitzending is F2A.

Bewering 2:

Een enkelzijdigbandzender met onderdrukte draaggolf wordt gemoduleerd met een spraaksignaal. De klasse van uitzending is J2B.

Wat is juist?

- a. alleen bewering 2
- b. geen van beide beweringen
- c. alleen bewering 1

36. Een FM-zender wordt gebruikt voor het uitzenden van een facsimilé-signaal.

De klasse van uitzending is:

- a. J1C
- b. F2C
- c. F1D

Opgave
nummer

37. In de algemene bepalingen van de Telecommunicatiewet komt de volgende definitie voor:

" (- X -): apparaten die naar hun aard bestemd zijn voor het zenden of het zenden en ontvangen van radiocommunicatiesignalen."

In plaats van (- X -) staat:

- a. radioversterkerapparaten
- b. radiozendapparaten
- c. radio-ontvangapparaten

38. De wetgever onderscheidt registratie in de categorieën F en N voor het doen van onderzoeken door radiozendamateurs.

Dit onderscheid bepaalt uitsluitend de toegestane:

- a. frequentiebanden en zendvermogens
- b. klassen van uitzending en de status op de toegewezen banden
- c. zendvermogens en klassen van uitzending

39. Een radiozendamateur met een N-registratie heeft een zelfbouw 2-meter zender met een zendvermogen van maximaal 60 watt.

Het gebruik van deze zender door de N-geregistreerde is:

- a. niet toegestaan
- b. zonder beperkingen toegestaan
- c. alleen toegestaan als het zendvermogen wordt verminderd tot ten hoogste 25 W

40. De roepletters moeten worden uitgezonden:

- a. bij het begin en het einde van elke uitzending ten minste twee maal en tijdens de uitzending één maal per 5 minuten
- b. bij het begin en het einde van elke uitzending ten minste één maal en tijdens de uitzending één maal per 10 minuten
- c. bij het begin en het einde van elke uitzending ten minste één maal en tijdens de uitzending één maal per 5 minuten

GOEDE ANTWOORDEN N-EXAMEN

1 november 2017 om 15.15 uur

Slagingsnorm: tenminste 29 goed (max. 11 fout)

Vraag	A	B	C
1	X		
2			X
3			X
4	X		
5	X		
6			X
7		X	
8		X	
9		X	
10	X		
11		X	
12	X		
13		X	
14	X		
15			X
16		X	
17			X
18			X
19	X		
20		X	
21	X		
22	X		
23		X	
24	X		
25			X
26	X		
27		X	
28	X		
29		X	
30	X		
31		X	
32		X	
33		X	
34	X		
35		X	
36		X	
37		X	
38	X		
39			X
40			X